

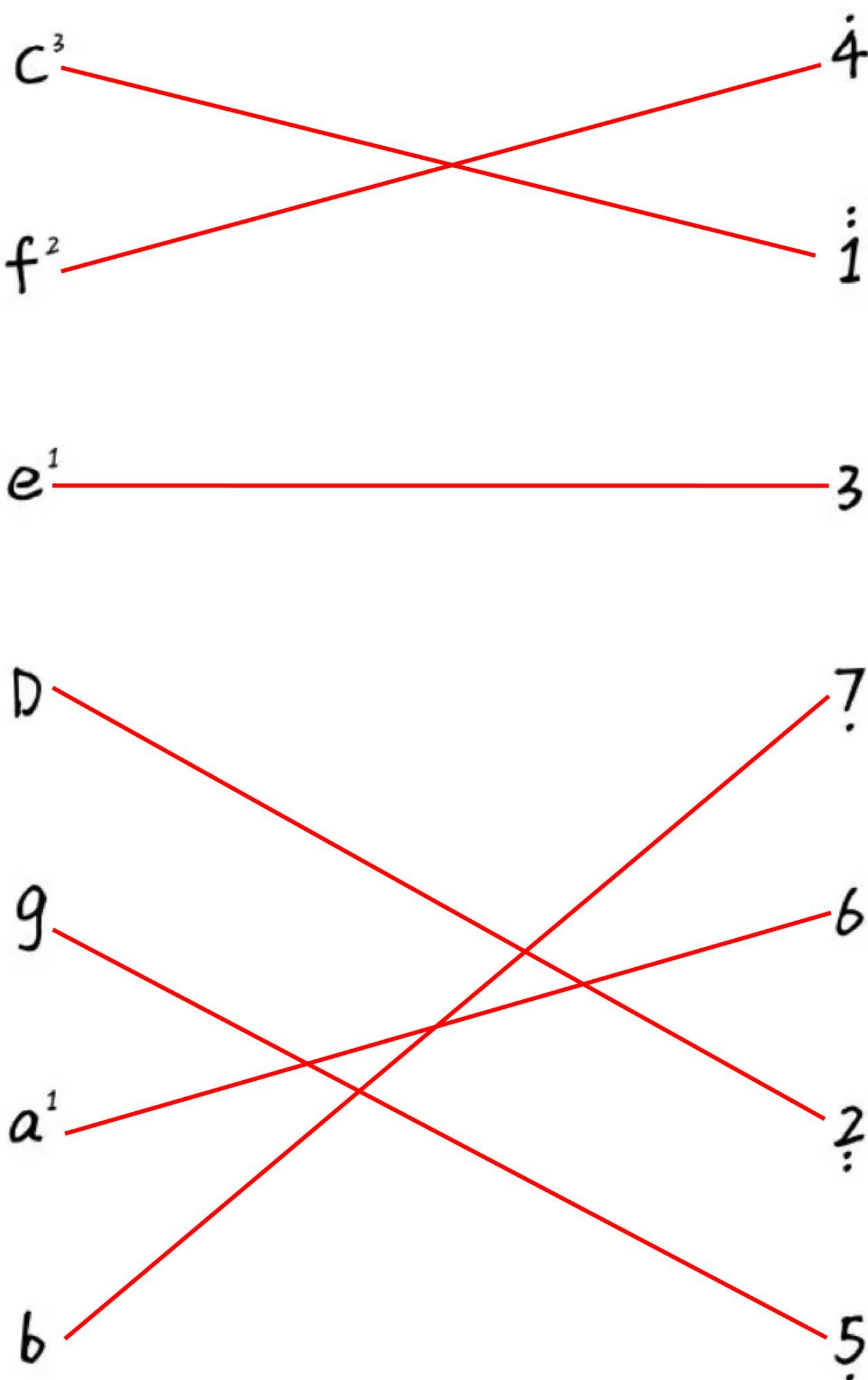
1

简谱符号音名唱名

1. 由低到高依次写出简谱中七个表示音高的记号。

1 2 3 4 5 6 7

2. 以1=C请连线下列各音的音组标记。



2

五线谱与高音谱表

1. 依次写出下列各音的音名和C大调简谱符号。

f^1
4
 d^2
2
 a^1
6
 c^3
1̇

c^1
1
 e^2
3
 a
6
 a^2
6̇

8^{va}

a^2
6
 c^3
1̇
 f^2
4
 d^3
2̇

8^{vb}

g
5
 B
7
 f
4
 d
2

3

常见音符的时值

1. 请在下方的横线内填入正确的答案。

四分音符的时值长度是二分音符的 1/2 ；

二分音符的时值长度是八分音符的 4倍 ；

全休止符的时值长度是八分休止符的 8倍 ；

十六分音符的时值长度是全音符的 1/16 ；

2. 将正确的音符名称与音符进行连线。

3. 将正确的休止名称与休止符进行连线。

4

拍子与速度

1.请在下方的横线内填入正确的答案。

以四分音符为一拍，八分音符为 1/2 拍；

以四分音符为一拍，全休止符为 4 拍；

以八分音符为一拍，二分音符为 4 拍；

以二分音符为一拍，八分音符为 1/4 拍；

5

拍号与小节

1.请在下方的横线内填入正确的答案。

2/4表示

以 4 分音符为 1 拍，每小节 2 拍；

请写出2/4拍，每一拍的强弱变化

强-弱

3/4表示

以 4 分音符为 1 拍，每小节 3 拍；

请写出3/4拍，每一拍的强弱变化

强-弱-弱

4/4表示

以 4 分音符为 1 拍，每小节 4 拍；

请写出4/4拍，每一拍的强弱变化

强-弱-次强-弱

6/8表示



以 8 分音符为 1 拍，每小节 6 拍；

请写出6/8拍，每一拍的强弱变化

强-弱-弱-次强-弱-弱

7

音值组合法

1. 根据音值组合法
写出下列各种拍子的拍号2. 将下列各例按照音值组合法
进行重新组合

8

反复记号

1. 写出下列谱例的演奏顺序



A-B-C-B-C-D



A-B-C-D-A-B-E-F



A-B-C-D-E-B-C



A-B-C-A-B-C-D



A-B-C-D-E-A-B-C

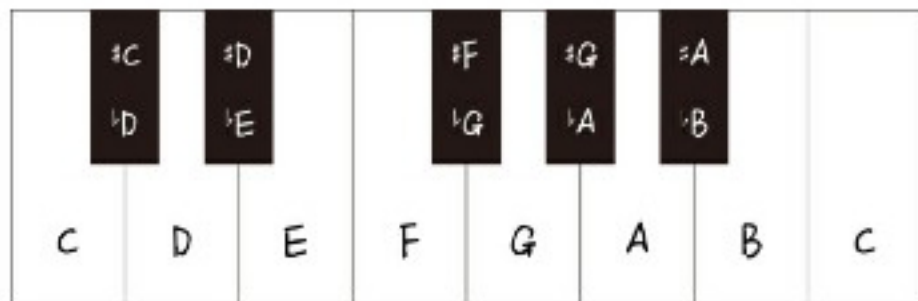
9

升降号和大调音阶

1. 写出C大调之间各音的音程关系



2. 分别用升号和降号写出每个黑键的音名



10

常用大调和调号

1. 在低音谱表上写出下列各调的调号。

F调	D调	B调
		
A调	G调	bE调
		

2. 写出下列各调号的名称。

F调	E调	bB调
		
A调	G调	B调
		