

1

简谱符号音名唱名

1.由低到高依次写出简谱中七个表示音高的记号。

2.以1=C请连线下列各音的音组标记。

c^3

$\dot{4}$

f^2

$\dot{\dot{1}}$

e^1

3

D

7

g

6

a^1

$\dot{2}$

b

5

2

五线谱与高音谱表

1. 依次写出下列各音的音名和C大调简谱符号。

Staff 1: Treble clef, 4/4 time signature. Notes: f^1 (first line), G (first space), A (second line), B (second space), C (third line).

Staff 2: Treble clef. Notes: C (third line), D (third space), E (fourth line), F (fourth space).

Staff 3: Treble clef. Notes: G (fifth line), A (first line above staff), B (second line above staff), C (third line above staff). 8^{va} is written above the staff.

Staff 4: Treble clef. Notes: D (third space), E (fourth line), F (fourth space), G (fifth line). 8^{vb} is written below the staff.

3

常见音符的时值

1. 请在下方的横线内填入正确的答案。

四分音符的时值长度是二分音符的_____；

二分音符的时值长度是八分音符的_____；

全休止符的时值长度是八分休止符的_____；

十六分音符的时值长度是全音符的_____；

2. 将正确的音符名称与音符进行连线。

1

全音符



1

二分音符



1

四分音符



1 - - -

八分音符



1 -

十六分音符



3. 将正确的休止名称与休止符进行连线。

0

全休止符



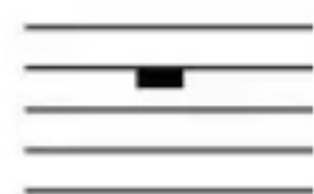
0

二分休止符



0 0

四分休止符



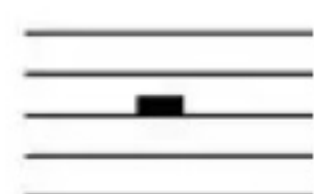
0 0 0 0

八分休止符



0

十六分休止符



4

拍子与速度

1.请在下方的横线内填入正确的答案。

以四分音符为一拍，八分音符为_____拍；

以四分音符为一拍，全休止符为_____拍；

以八分音符为一拍，二分音符为_____拍；

以二分音符为一拍，八分音符为_____拍；

5

拍号与小节

1.请在下方的横线内填入正确的答案。

2/4表示

以____分音符为____拍，每小节____拍；

请写出2/4拍，每一拍的强弱变化

3/4表示

以____分音符为____拍，每小节____拍；

请写出3/4拍，每一拍的强弱变化

4/4表示

以____分音符为____拍，每小节____拍；

请写出4/4拍，每一拍的强弱变化

6/8表示


以____分音符为____拍，每小节____拍；

请写出6/8拍，每一拍的强弱变化

6


附点音符与连音线

1.在下方音符后面的横线内填入正确的名称。



1·





1 - -

2.以四分音符为一拍，
在音符下方的括号内填入正确的拍数。

5 - - || 7 - 7 || 0 0 0 || 4· ||

【 3拍 】 【 1 】 【 1 】 【 1 】

3.以八分音符为一拍，
在下方的括号内填入正确的拍数。

5· || 0· || 5 5 || 5· ||

【 1拍半 】 【 1 】 【 1 】 【 1 】


8

反复记号

1. 写出下列谱例的演奏顺序




A-B-C-B-C-D



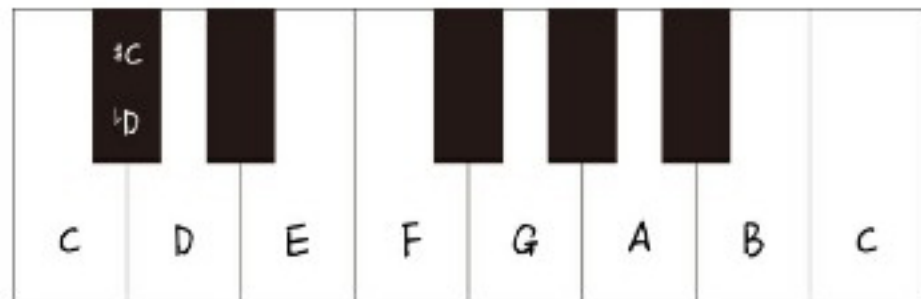
9

升降号和大调音阶

1. 写出C大调之间各音的音程关系



2. 分别用升号和降号写出每个黑键的音名



10

常用大调和调号

1. 在低音谱表上写出下列各调的调号。

F调	D调	B调
		
A调	G调	\flat E调
		

2. 写出下列各调号的名称。

F调		
		
		